

27.04.2020r.

Klasa VI

Technika

Temat: Rzuty prostokątne- ćwiczenia

Podręcznik strony 42-45

Obejrzyj film na temat rzutów prostokątnych

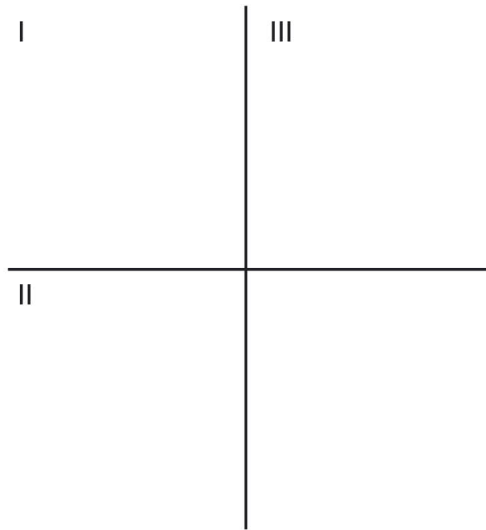
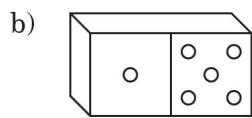
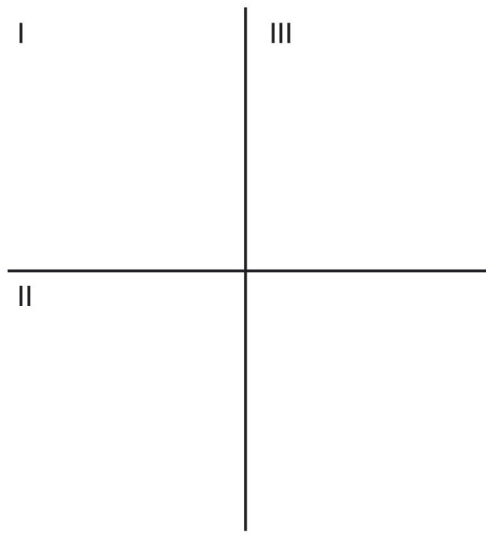
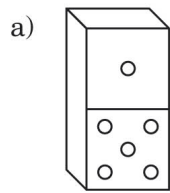
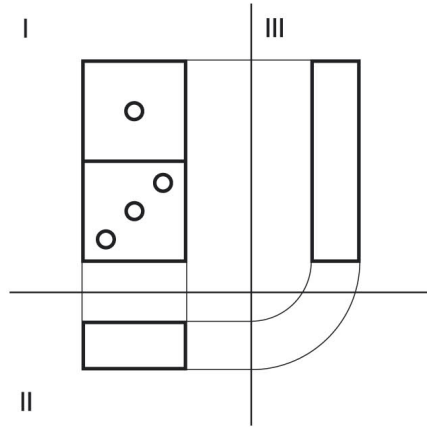
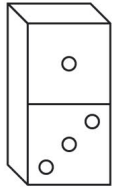
<https://www.youtube.com/watch?v=76DqoO9wLvU>

lub

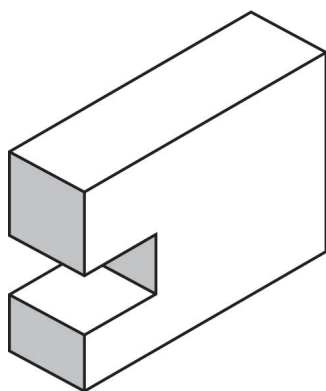
<https://www.youtube.com/watch?v=-fU6VRI-k7M>

Karta pracy

1 Przyjrzyj się przedstawionemu rzutowi prostokątnemu kostki domina. Następnie, zgodnie ze wzorem, narysuj kolejne rzuty kostek.

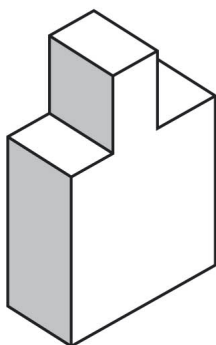


2. Dorysuj brakujące linie na rzucie z góry i z boku ukazanej bryły.

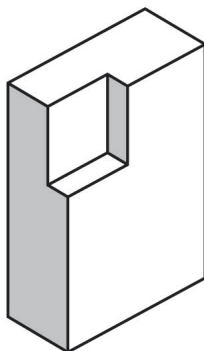


3. Narysuj na kartce formatu A4 rzuty prostokątne wybranej bryły.

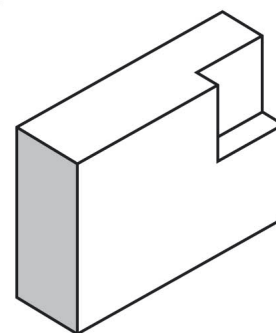
a)



b)



c)



Dla wszystkich

Zadania z karty pracy 1-3

Dla chętnych

Z zadania 3 rzuty prostokątne dwóch pozostałych brył.

Pracę należy przesłać do 04.05.2020r.

Gdyby były jakieś pytania proszę pisać na mój adres mkrakowiak.nauczyciel@gmail.com.

Pozdrawiam i życzę miłej pracy.

Marianna Krakowiak